

# NIVEL 2



visual



lógica



tu vida



lenguaje

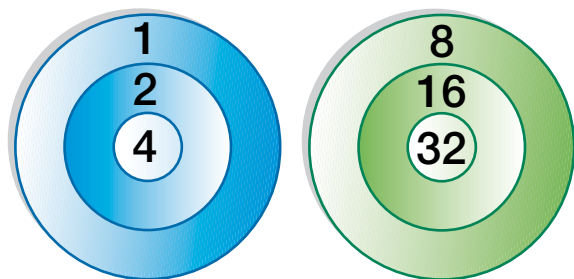


atención



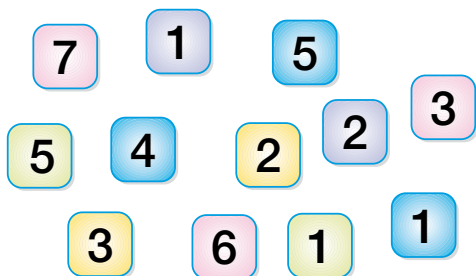
## DIANAS

¿Dónde deben dar los dardos para obtener 45 puntos lanzando únicamente cuatro?




## DE UN TRAZO

Trazar una línea para separar las fichas en dos grupos del mismo valor.

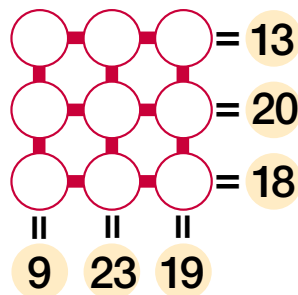


## CIFRAS CRUZADAS

Colocar en el tablero inferior los números siguientes

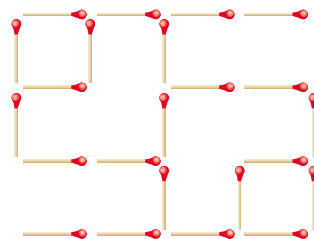


de manera que sumándolos vertical y horizontalmente se obtengan los resultados dados.




## CERILLAS

Mover solo cuatro cerillas para formar dos cuadrados grandes y cuatro más pequeños.



## PILAS DE LIBROS



Cada pila de libros cuesta 10 euros. Los libros del mismo color tienen el mismo precio. ¿Cuánto vale cada libro?

