

# NIVEL 3



visual



lógica



tu vida



lenguaje



atención



## DADOS

Eliminar tres dados del mismo color para conseguir que las tres columnas tengan el mismo número de puntos.



## PEQUEÑO PROBLEMA

Lucas y Tom tienen diez canicas cada uno. ¿Cuántas canicas tiene que dar Lucas a Tom para que este último tenga diez canicas más que él, o sea, el triple de canicas?



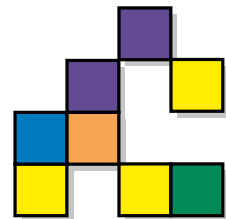

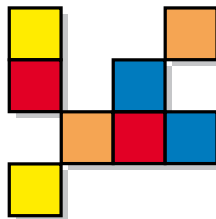

## ÚNICA

Una de estas seis figuras es diferente a las demás. ¿Cuál?



## EL CUADRADO

¿Qué dos formas hay que superponer para formar el cuadrado de la izquierda?



1

2

3