

NIVEL 2



visual



lógica



tu vida



lenguaje



atención



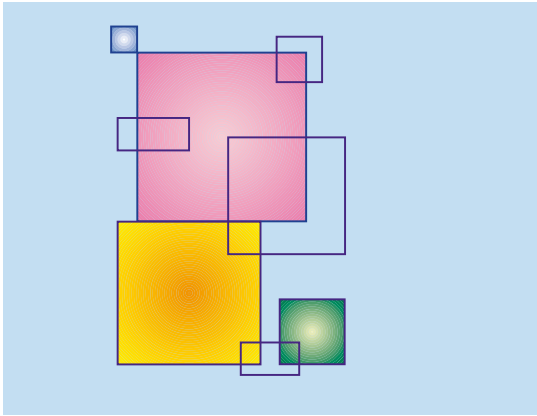
LA HORA

Descubrir cuál de estos relojes marca la hora exacta, sabiendo que dos van atrasados, uno de ellos 5 minutos y el otro 15, y un tercero adelanta 10.




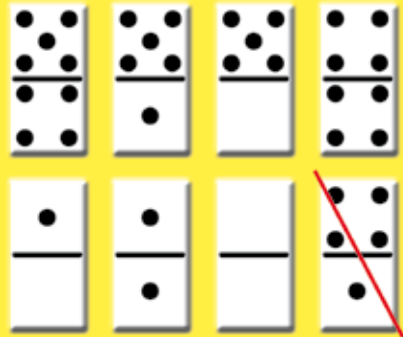
BUENA VISTA

¿Cuántos cuadrados hay en el dibujo inferior?



DOMINÓ

A partir del ejemplo, buscar en el tablero inferior la posición de las restantes siete fichas de dominó.



EN PISTA

Recorrer el dibujo, comenzando en el punto 1 hasta llegar al 4, sin levantar el lápiz ni pasar dos veces por la misma línea.

