

NIVEL 3



visual



lógica



tu vida



lenguaje

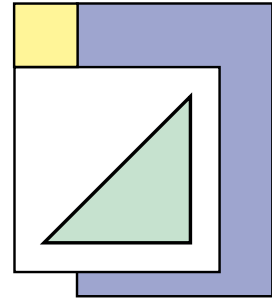
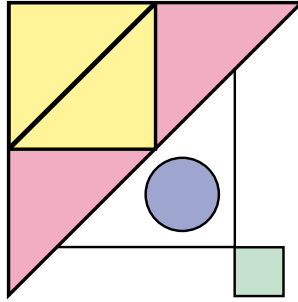
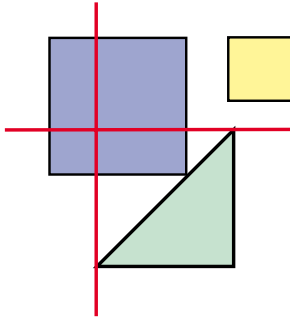


atención



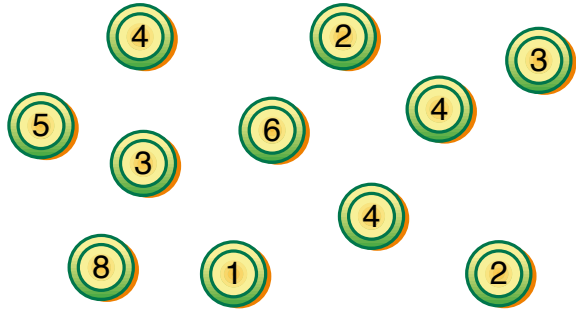
BUENA VISTA

¿Cuántos cuadrados y cuántos triángulos hay en este dibujo?



PARTES IGUALES

Trazar una línea para separar las fichas en dos grupos con el mismo valor.
Una pista: sumar todas las fichas y dividir el resultado entre dos, para averiguar el valor de cada grupo.



LETRAS DESORDENADAS

Ordenar las libretas de mayor a menor para encontrar el nombre de una moneda.

